

MATEMÁTICAS

EL RELOJ Y LAS HORAS

Observa y repasa:

La aguja corta indica la hora que es.



Cuando la aguja larga señala las 12, hablamos de horas en punto.

Las dos en punto.



Cuando la aguja larga señala las 6, hablamos de horas y media.

Las dos y media.

Relaciona y repasa:



Las nueve en punto.



Las siete en punto.



Las cuatro y media.



Las nueve y media.



Las siete y media.



Las cuatro en punto.

Recorta y pega cada reloj donde corresponda.



Las siete en punto




Las tres y media



Las diez en punto

Dibuja las agujas del reloj en cada situación.



DIAGRAMAS DE BARRAS

Completa el diagrama de barras a partir de los datos de la tabla.

Bombero	Bombona	Coche	Camión cisterna	Camión-escalera	Moto
10	11	5	4	2	7



— Responde:

¿Cuántos bomberos hay en el parque? ¿Y coches?

¿Cuántos camiones cisterna hay en el parque?

¿Y camiones-escalera?

¿De qué clase de vehículos hay menos?

CÁLCULO MENTAL

Calcula y completa las restas.

$$10 - 5 = \boxed{5}$$

$$40 - 5 = \boxed{35}$$

$$70 - 5 = \boxed{65}$$

$$20 - 5 = \boxed{15}$$

$$50 - 5 = \boxed{45}$$


$$80 - 5 = \boxed{75}$$

$$30 - 5 = \boxed{25}$$


$$60 - 5 = \boxed{55}$$

$$90 - 5 = \boxed{85}$$

Relaciona cada resta con el número que le falta.



Completa:



Lee y calcula mentalmente:

Los depósitos de agua de los camiones de bomberos que conducen Marcos, Isabel y Pablo contienen 90, 50 y 70 litros, respectivamente. Cada uno de ellos ha gastado 5 litros de agua.

¿Cuántos litros contiene ahora cada camión?

Camión de Marcos

Camión de Isabel

Camión de Pablo



MÚSICA

MIÉRCOLES 3 DE JUNIO DE 2020

MÚSICA

ACTIVIDAD 1: Vamos a hacer una actividad de discriminación auditiva. En el siguiente vídeo, verás y escucharás diferentes instrumentos de la familia de la cuerda. Intenta adivinarlos antes de que ponga la respuesta.

<https://www.youtube.com/watch?v=7JwF4oWeCJs>

ACTIVIDAD 2: En el vídeo anterior aparecen instrumentos de cuerda frotada, de cuerda pulsada y de cuerda percutida. Clasifícalos en la tabla.

¡ATENCIÓN! Uno que sale no es de cuerda, se les ha colado en el vídeo. En realidad es electrófono, porque necesita electricidad para sonar, ¿lo descubres?

LÁMINAS	PARCHE	IDIÓFONO
metalófono	dejembé	maraca
xilófono	dabuka	Pandereta hueca

El conjunto de instrumentos de percusión que aparece es: **batería**

JUEVES 28 DE MAYO DE 2020

MÚSICA

ACTIVIDAD 1: Pincha apretando la tecla de control para escucharlos.

EJERCICIO 1

EJERCICIO 2