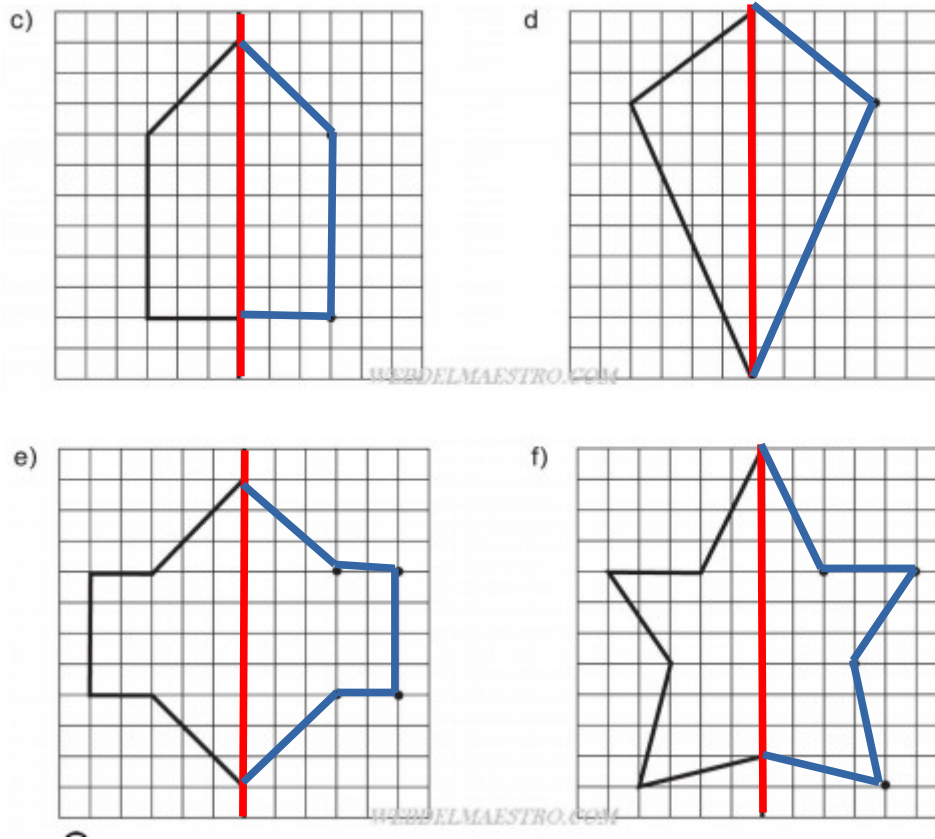


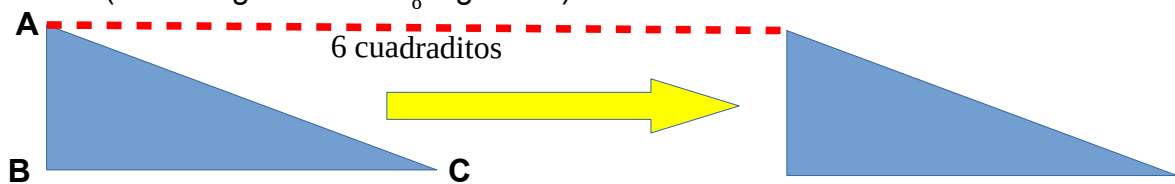
SOLUCIÓN TAREA SEXTO

MATEMÁTICAS

1. Dibuja las simetrías. Luego repasa de rojo el eje de simetría y colorea el resto de ella figura. (Puedes imprimir esta pagina o copiar las figuras en tu cuaderno).








2. Dibuja un triángulo rectángulo en tu cuaderno. Luego trasládalo 6 cuadrados a la derecha. (Puedes guiarte con el siguiente)



Presta especial atención a que desde el cada vértice hasta el mismo punto de la segunda figura haya 6 cuadraditos.

3. Dibuja dos figuras semejantes a cada una de las siguientes. Una de mayor tamaño y otra menor.





4. Para que no dejéis de entrenar vuestros cerebros, os dejamos un acertijo.

Un anciano va a la consulta del médico y éste le receta 3 pastillas. Le dice que se las tome cada media hora.

¿Cuánto tiempo le durarán las pastillas?

1 hora

Para tomarse la primera pastilla no espera media hora.