

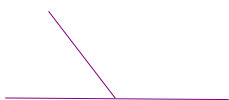
SOLUCION TAREA MIÉRCOLES 27 DE MAYO

MATEMÁTICAS


1. **Dibuja** una pareja de ángulos de cada tipo: complementarios, suplementarios, adyacentes, consecutivos y opuestos por el vértice. Escribe sus nombres y cuánto mide cada uno.

RESPUESTA LIBRE SIGUIENDO LOS EJEMPLOS DEL CUADRO SUPERIOR

2. **Escribe** si son suplementarios o complementarios estos ángulos.




Suplementarios



complementarios



suplementarios

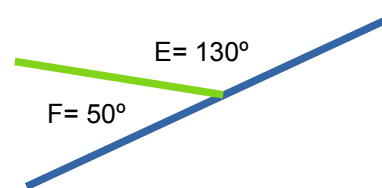
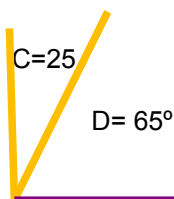
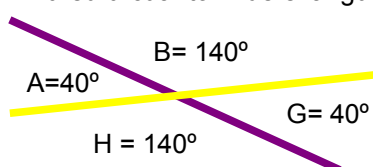


ninguno de los dos

3. **Completa** la tabla escribiendo el ángulo complementario y suplementario de cada uno, como en el ejemplo.

ÁNGULO	MIDE	SU COMPLEMENTARIO	SU SUPLEMENTARIO
A	0	60°	150°
B	50°	30°	130°
C	75°	15 °	105°
D	43°	47°	137°

4. **Calcula** cuánto mide el ángulo que falta.



MÚSICA

La solución de música que viene a continuación pertenece a las **actividades de la semana pasada**, ya que no pudo ser enviada en su momento.

La clasificación de instrumentos según el sistema Hornbostel-Sachs.

Esta información está en la página 15 de tu libro, que puedes releer atentamente para después realizar ejercicio 5 de la página 17.

- ¿Conoces algún otro sistema de clasificación de instrumentos? ¿Cuál? Descríbelo y pon algún ejemplo

SOLUCIÓN:

La clasificación de instrumentos según el sistema Hornbostel-Sachs.

1. Idiófonos
2. Electrófonos
3. Membranófonos
4. Aerófonos
5. Cordófonos

Según el ejercicio planteado.

- Ondas Martenot: electrófono
- Violoncello eléctrico: electrófono
- Acordeón: aerófono
- Guitarra eléctrica: electrófono
- Sintetizador: electrófono
- Batería: membranófono

Otra clasificación: cuerda (violín), viento (fagot) y percusión (timbal).

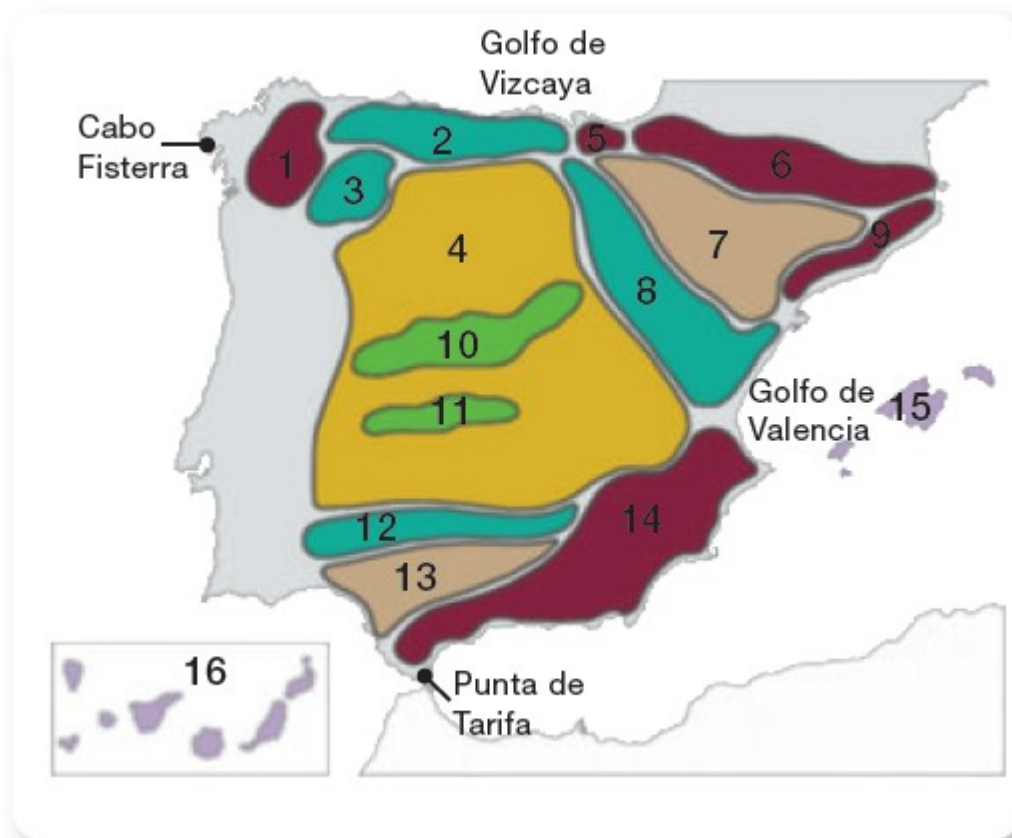
SOCIALES

Actividades:

1 Tabla.

Meseta Central		
Cordilleras interiores	Cordilleras que la rodean	Cordilleras exteriores
Sistema Central, Montes de Toledo.	Montes de León, Cordillera Cantábrica, Sistema Ibérico, Sierra Morena.	Macizo Galaico, Montes Vascos, Pirineos, Sistema Costero-Catalán, Sistemas Béticos.

2



1: Macizo Galaico; 2: Cordillera Cantábrica; 3: Montes de León;

4: Meseta Central; 5: Montes Vascos; 6: Pirineos; 7: depresión del Ebro; 8: Sistema Ibérico; 9: Sistema Costero-Catalán; 10: Sistema Central; 11: Montes de Toledo; 12: Sierra Morena;

FRANCÉS

LA DATE :

Aujourd'hui c'est vendredi, le vingt-neuf mai deux-mille vingt. Nous sommes au printemps. Il fait beau. Il y a du soleil. Il est midi et quart (par exemple).

Comprueba que has escrito el título del este último tema.
Tenáis que escribir el vocabulario del ejercicio 1b de la página 54 y hacer los dibujos.
Comprobad que lo tenéis bien escrito.

Del Cahier d'activités:

2a:

1. Je vais au JARDIN PUBLIC.
2. Tu vas à la BOUCHERIE.
3. Il va à l'ÉCOLE.
4. Je vais à la BOULANGERIE.
5. Elle va au CINÉMA.
6. Il va à la LIBRAIRIE.
7. Je vais à la PISCINE.
8. Je vais au magasin de JOUETS.
9. Mon père va au RESTAURANT.
10. Tu vas à l'ÉPICERIE.

3.

- Bonjour madame. Je voudrais une plaquette de beurre, un paquet de biscuits et une tablette de chocolat.
- C'est tout ?
- Non, un kilo de tomates et un litre de lait, s'il vous plaît.
- 11 euros 93. Onze euros quatre-vingt-treize.
- Voilà. Merci madame. Au revoir.

- Au revoir.