

MATEMÁTICAS

1) Escribe la hora digital en cada reloj. Di en voz alta qué hora es.



La una en punto.

Las tres en punto.

Las seis en punto.



La una y media.

Las dos y media.

Las siete y media.




Las diez en punto.

Las doce en punto.


Las diez y media.

2) Dibuja las saetas para que sean las horas que dice debajo. ¿Serías capaz de escribirlo en un reloj digital?




Son las cinco en punto.

5:00




Son las ocho y media.

8:30




Son las once y media.

11:30




Son las dos en punto.

2:00



Son las doce en punto.

12:00



Son las nueve y media.

9:30