

























MATEMÁTICAS
























1.

Marca con una cruz la casilla donde está el reloj correcto

<p>a. ¿Qué reloj marca las 4?</p> <div>     </div> <div> 1. <input type="checkbox"/> 2. <input type="checkbox"/> 3. <input checked="" type="checkbox"/> 4. <input type="checkbox"/> </div>	<p>b. ¿Qué reloj marca las 10?</p> <div>     </div> <div> 1. <input type="checkbox"/> 2. <input type="checkbox"/> 3. <input checked="" type="checkbox"/> 4. <input type="checkbox"/> </div>
<p>c. ¿Qué reloj marca las 3?</p> <div>     </div> <div> 1. <input checked="" type="checkbox"/> 2. <input type="checkbox"/> 3. <input type="checkbox"/> 4. <input type="checkbox"/> </div>	<p>d. ¿Qué reloj marca las 12?</p> <div>     </div> <div> 1. <input checked="" type="checkbox"/> 2. <input type="checkbox"/> 3. <input type="checkbox"/> 4. <input type="checkbox"/> </div>
<p>e. ¿Qué reloj marca las 8?</p> <div>     </div> <div> 1. <input checked="" type="checkbox"/> 2. <input type="checkbox"/> 3. <input type="checkbox"/> 4. <input type="checkbox"/> </div>	<p>f. ¿Qué reloj marca las 3 y media?</p> <div>     </div> <div> 1. <input type="checkbox"/> 2. <input type="checkbox"/> 3. <input type="checkbox"/> 4. <input checked="" type="checkbox"/> </div>

2. Son relojes analógicos

Marca con una cruz la casilla donde está el reloj correcto

<p>a. ¿Qué reloj marca las 4 y media?</p> <div>     </div> <div> 1. <input type="checkbox"/> 2. <input type="checkbox"/> 3. <input checked="" type="checkbox"/> 4. <input type="checkbox"/> </div>	<p>b. ¿Qué reloj marca las 9 y media?</p> <div>     </div> <div> 1. <input checked="" type="checkbox"/> 2. <input type="checkbox"/> 3. <input type="checkbox"/> 4. <input type="checkbox"/> </div>
<p>c. ¿Qué reloj marca las 6 y media?</p> <div>     </div> <div> 1. <input checked="" type="checkbox"/> 2. <input type="checkbox"/> 3. <input type="checkbox"/> 4. <input type="checkbox"/> </div>	<p>d. ¿Qué reloj marca las 2 y media?</p> <div>     </div> <div> 1. <input type="checkbox"/> 2. <input type="checkbox"/> 3. <input checked="" type="checkbox"/> 4. <input type="checkbox"/> </div>
<p>e. ¿Qué reloj marca las 7 y media?</p> <div>     </div> <div> 1. <input type="checkbox"/> 2. <input type="checkbox"/> 3. <input checked="" type="checkbox"/> 4. <input type="checkbox"/> </div>	<p>f. ¿Qué reloj marca las 5 y media?</p> <div>     </div> <div> 1. <input type="checkbox"/> 2. <input type="checkbox"/> 3. <input checked="" type="checkbox"/> 4. <input type="checkbox"/> </div>

MÚSICA

MIÉRCOLES 27 DE MAYO DE 2020

Instrumentos de cuerda

ACTIVIDAD 2:

CUERDA FROTADA	CUERDA PULSADA	CUERDA PERCUTIDA
VIOLÍN	GUITARRA	PIANO
VIOLONCHELO	UKELELE	
CONTRABAJO		

Y el instrumento electrófono es:GUITARRA ELÉCTRICA...

ACTIVIDAD 3:

VIOLÍN VIOLONCHELO
VIOLA CONTRABAJO

ACTIVIDAD 4: Michael Jackson

JUEVES 28 DE MAYO DE 2020

ACTIVIDAD 1:

VÍDEO EJERCICIO 1

VÍDEO EJERCICIO 2

EJERCICIO 1



EJERCICIO 2



ACTIVIDAD 2:



ACTIVIDAD 3:

- ¿Cuántas notas diferentes tiene la escala pentatónica? **5 NOTAS** (do, re, mi, sol, la)
- ¿Cuántas notas diferentes tiene la escala diatónica? **7 NOTAS** (do, re, mi, fa, sol, la, si)
- ¿Qué escala tiene más notas? **La escala diatónica**
- ¿Qué notas no aparecen en la escala pentatónica? **Fa y si**