

TAREAS MIÉRCOLES 29 DE ABRIL DE 2020

Hola familias: aquí van las tareas de hoy (de Matemáticas, CCNN, Música y EF). El siguiente envío de tareas será el próximo lunes 4 de mayo, pues este viernes es festivo, al ser 1 de mayo, día en el que se celebra la Fiesta del Trabajo.

TAREAS DE MATEMÁTICAS: como no hay envío hasta el próximo miércoles, os ponemos un poquito de tareas para hoy, para mañana jueves, y para el lunes y martes próximo.

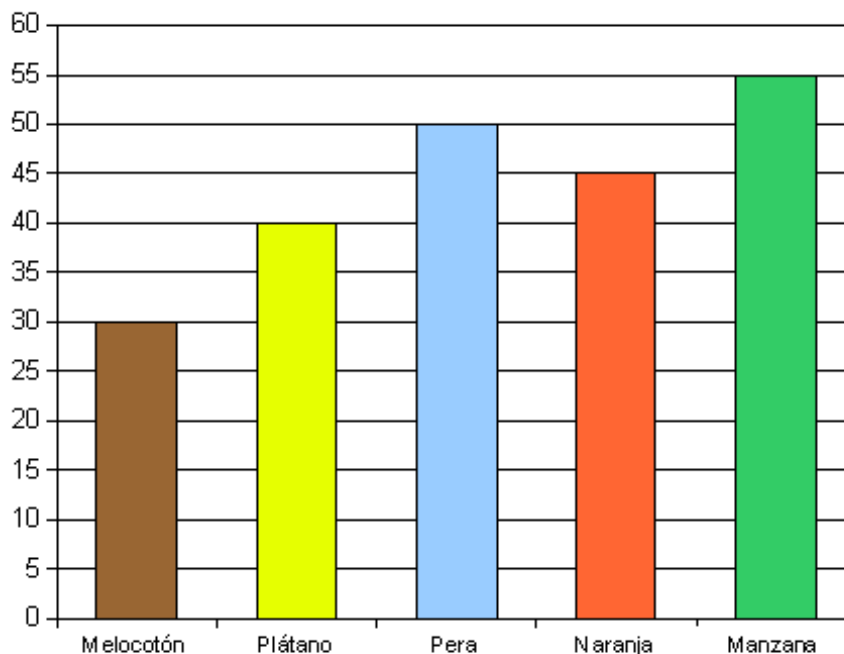
· Tarea miércoles 29 de abril: hoy vamos a recordar los diagramas de barras. ¿Te acuerdas de cómo se hacían?

Aquí tienes un ejemplo:

En el supermercado de debajo de mi casa tienen las siguientes cantidades de fruta:

- Melocotones = 30.
- Plátanos = 40.
- Peras = 50.
- Naranjas = 45.
- Manzanas = 55.

Vamos a mostrar las cantidades de cada fruta en un diagrama de barras:



Fácil, ¿verdad? Pues ahora fíjate en el diagrama y responde a las siguientes preguntas:

- ¿De qué fruta hay más? ¿Y de cuál hay menos?
- ¿Qué cantidad de piezas de fruta tienen en total?
- ¿Cuántas naranjas hay más que plátanos? ¿Y cuántos melocotones hay menos que peras?

Muy bien, pues ahora te toca a ti hacer tu propio diagrama de barras. Vas a sacar los siguientes cubiertos que tengáis en la cocina de casa: cuchillos, tenedores, cucharas y cucharillas de postre. Vas a contar cuántos tienes de cada uno y representarlo en un diagrama de barras, ¿vale?

- Cuchillos =
- Tenedores =
- Cucharas =
- Cucharillas de postre =

A continuación, vas a dibujar el diagrama de barras de tus cubiertos de la cocina, y después de dibujarlo te pones a pensar y escribir unas cuantas preguntas, las que tú quieras, y nos las mandas para que Chuan o yo las respondamos. Te las enviaremos de vuelta para que nos las corrijas tú y nos digas si las hemos respondido bien, ¿vale?

- Tarea jueves 30 de abril: te proponemos unos tableros matemáticos para repasar sencillas sumas, restas, multiplicaciones y divisiones.

El tablero matemático

START



2

+ 3

x 4

x 8

- 8

/ 4

/ 2

/ 6

- 7

+ 9

+ 14

/ 9

x 3

FINISH

El tablero matemático

START



5

$\times 6$

$+ 2$

$+ 4$

$/ 4$

$/ 7$

$\times 2$

$- 5$

$- 4$

$+ 6$

$\times 9$

$/ 3$

$+ 6$

FINISH

El tablero matemático

START



8

/ 2

x 5

x 3

+ 8

+ 4

/ 6

/ 4

- 7

x 7

/ 5

x 9

- 4

FINISH

El tablero matemático

START



6

- 3

x 4

/ 9

+ 12

x 5

- 3

/ 6

+ 2

x 7

+ 3

/ 3

x 8

FINISH

· Tarea lunes 4 de mayo: para hoy esta ficha con la que repasamos muchas cosas (sumar, restar y multiplicar; el lugar de las centenas, decenas y unidades; y el cálculo mental en el cuadrado mágico, que nos hace pensar un poquito).

14 Realiza.



$$\begin{array}{r} 442 \\ 3838 \\ + 1253 \\ \hline \end{array}$$

$$\begin{array}{r} 3921 \\ 4873 \\ + 252 \\ \hline \end{array}$$

$$\begin{array}{r} 3844 \\ 3456 \\ + 5796 \\ \hline \end{array}$$

$$\begin{array}{r} 50247 \\ - 28349 \\ \hline \end{array}$$

$$\begin{array}{r} 74216 \\ - 9938 \\ \hline \end{array}$$

$$\begin{array}{r} 25782 \\ - 19890 \\ \hline \end{array}$$

$$\begin{array}{r} 2764 \\ \times 19 \\ \hline \end{array}$$

$$\begin{array}{r} 8567 \\ \times 24 \\ \hline \end{array}$$

$$\begin{array}{r} 8976 \\ \times 78 \\ \hline \end{array}$$

$$\begin{array}{r} 8349 \\ \times 96 \\ \hline \end{array}$$

15 Encuentra el número que cumple las condiciones:

- La cifra de las centenas es doble que la de las decenas.
- Las unidades valen cero.
- Sus cifras suman 9.

306 360
126
405 420
630

16 Completa.

	x	4	=	
:	★	x	★	:
3	x		=	
=	★	=	★	=
8	x		=	32



17 Coloca y resuelve.

$$83435 - 5793$$

$$7897 + 838 + 9743$$

$$4698 \times 56$$



· Tarea martes 5 de mayo: y para hoy un poco de resolución de problemas. Fíjate bien que con los resultados de los problemas tienes que descubrir un mensaje.

Descubre el mensaje

Un agricultor vende 3715 kilogramos de uva, 7240 kg de cebada y 5245 kg de trigo.

- 20 ¿Cuánto pesan los cereales?
Operación.

Respuesta

uno

- 21 ¿Cuánto menos pesan la uva que los cereales?
Operación.

Respuesta

quiere

- 22 ¿Cuánto cobra por 7 kilos de uva si le pagan a 78 cent. el kilo?
Operación.

Respuesta

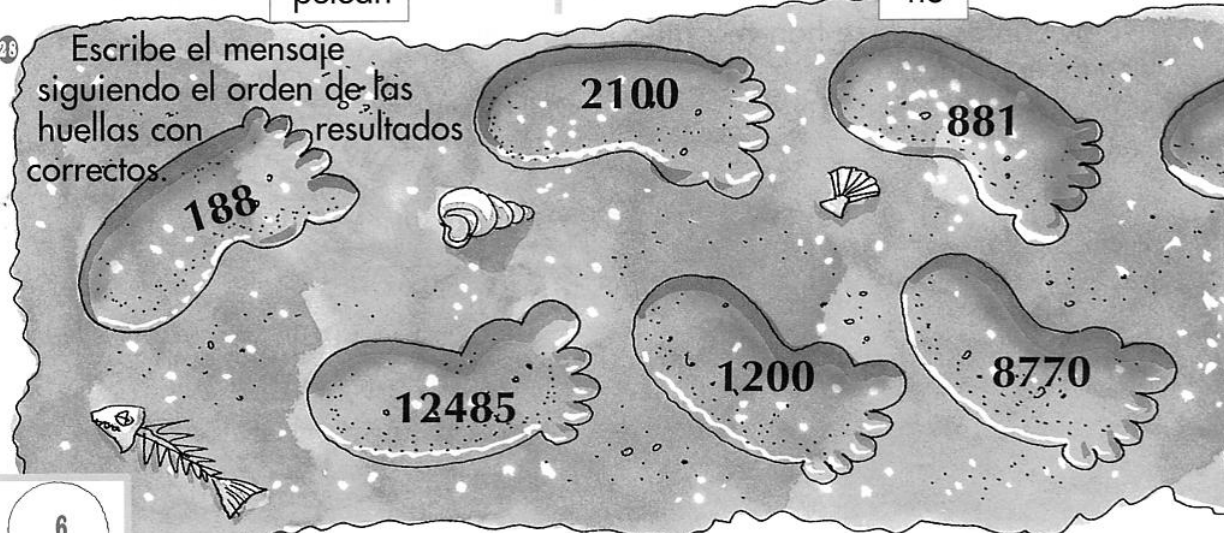
pelean

- 23 Para transportar lo vendido utiliza un camión que carga 15000 kilos. ¿Cuántos kilos le quedan para el 2º viaje?
Operación.

Respuesta

no

- 24 Escribe el mensaje siguiendo el orden de las huellas con resultados correctos.



Mensaje:

Un rebaño tiene 522 ovejas. Se junta a otro de 624 cabezas.

- 24 ¿Cuántas ovejas tiene ahora el rebaño?
Operación.

Respuesta

dos

- 25 Nacen 75 corderillos y se venden 28 de ellos. ¿En cuántos animales ha aumentado el rebaño?
Operación.



Respuesta

no

- 26 ¿Cuántas patas tienen entre todos los corderillos que quedan sin vender?
Operación.




Respuesta

cuando

- 27 ¿Cuántos animales se necesitan para tener 2000?
Operación.

Respuesta

se

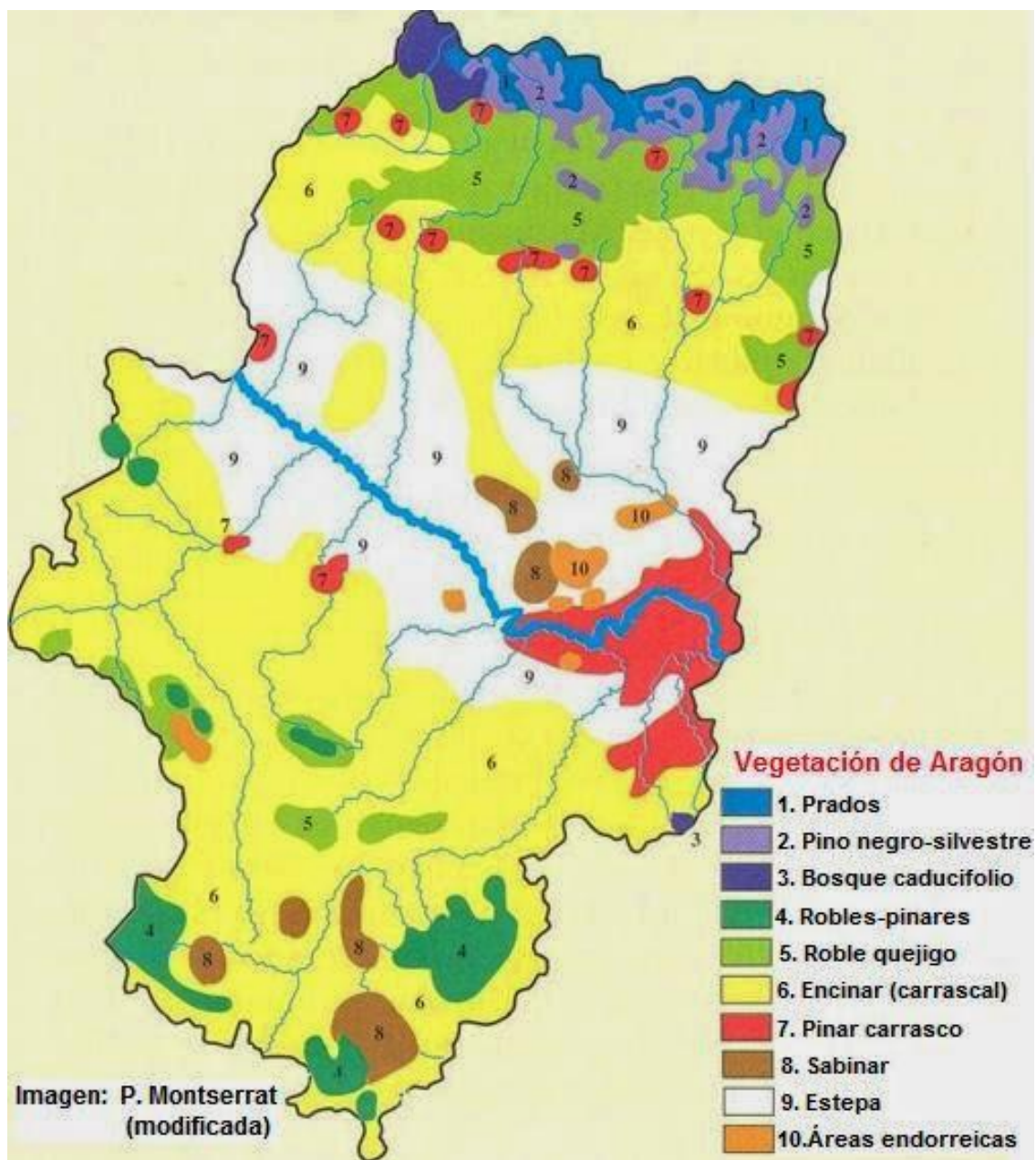


7



TAREA DE CCNN:

Imagina que eres detective y tu misión es para mejorar el medioambiente en los territorios de Aragón. Hoy tienes **la MISIÓN 1**= Observar lo que quieren decir estos mapas. En éste primero podrás encontrar datos sobre los tipos de paisaje según los árboles que crecen en él, por lo tanto el tipo de suelo, tierra o humus que en cada zona se mantiene vivo y los ecosistemas que ahí pueden vivir. Puedes comparar con los tipos que salen en tu libro de C. Naturales.



4.- ¿En qué zona de vegetación encontrarías el paisaje de la foto que hay en último lugar?



TAREA DE MÚSICA:

- Teoría musical



1. Realiza este ejercicio virtual y reconoce los distintos instrumentos musicales. ¡MEMORY! Hazlo con tu familia para que sea más divertido incluyendo dos jugadores.

Enlace:

<https://aprendomusica.com/const2/38meminstrbas2jug/memoryInstrumentosBasico.html>

- Audición rítmica

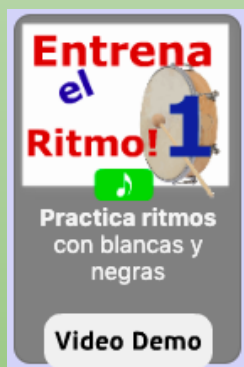
2. Realiza el “JUEGO DE LA NEGRA Y SU SILENCIO” y coloca cada icono del audio con el ritmo que corresponda.



Enlace:

<http://www.aprendomusica.com/const2/09negraysilencio/negraysilencio.html>

- Interpretación rítmica




3. Realiza esta actividad “ENTRENA EL RITMO” y consigue interpretar los distintos ritmos con blancas y negras.

Enlace: <https://aprendomusica.com/const2/42entrenritmo1/game.html>

- Percusión corporal

4. Realizar esta actividad de percusión corporal online con la obra “Carmen” de Bizet.



Enlace: <https://www.youtube.com/watch?v=V4kICGTlaeg>

**NOTA: SI SURGE ALGUNA DUDA PUEDEN ESCRIBIRME AL CORREO ELECTRÓNICO
joaquinaalistero94@gmail.com**

TAREA DE E.F:

EN CASA JUGAMOS Y NOS MOVEMOS (6ª semana)

¡Hola chicos/as! Vamos con el paquete de actividades para esta semana.

TABLA DE EJERCICIOS

<https://www.youtube.com/watch?v=oc4QS2USKmk>

A BAILAR

Si os gusta la coreografía anterior de DANCE MONKEY vamos con otra distinta:

<https://www.youtube.com/watch?v=XCtl3rLJbx0>

Otra de Zumba en familia "La Bamba"(Remix):

<https://www.youtube.com/watch?v=bS2mngPhwGE>

YOGA

<https://www.youtube.com/watch?v=MI1S5rM0ou0>

RETOS (Habilidades motrices)

Para esta semana os he preparado una carpeta con 4 retos donde las risas están aseguradas, jejeje...

Enlace de Carpeta de Retos:

https://1drv.ms/u/s!ApC1fLCd6WppID_cCeNwoF-N9YyN?e=7j9hA8

Reto 1: Sacar y poner la camiseta

Utilizando una camiseta de manga larga o sudadera tienes que sacártela y ponértela en posición de plancha (sólo apoyo de manos y pies).

Reto 2: Abdominales

En esta ocasión con un globo podemos realizar dos ejercicios; el primero en posición de tumbados boca arriba intentamos hacer 20 toques como mínimo alternando las manos y elevando la cabeza contrayendo las abdominales superiores. El segundo ejercicio en posición de cangrejo realizar otros 20 toques como mínimo con cualquier parte del cuerpo sin apoyar el trasero en el suelo, aquí trabajaremos un poco más las abdominales inferiores. Si no tienes globo puedes utilizar una pelota ligera y el reto sería de solo 5 toques.

Reto 3: Cazo-Raqueta

A parte del vídeo explicativo os dejo también una foto con otro material que podáis tener por casa y también os pueda servir para cumplir el reto. Hay que intentar hacer 20 toques como mínimo con un cazo o sartén tanto con una mano como con la otra.

Reto 4: Reto Familiar-Velocidad

En el salón de casa, en el pasillo o la parte de tú casa que haya más distancia hay que transportar 6 rollos de papel higiénico de un lado a otro llevándolos de uno en uno en el menor tiempo posible. Este reto puede dar mucho juego y podéis variarlo si queréis: transportando otro número de rollos de papel, su colocación, poniendo obstáculos o túneles por el medio...