

MATEMÁTICAS



PROBLEMAS DE MATEMÁTICAS



9.- Viendo un partido de fútbol había 36 personas, pero en el descanso se fueron 15. ¿Cuántas personas hay ahora viendo el partido?

DATOS

36
15

OPERACIONES

$$\begin{array}{r} 36 \\ - 15 \\ \hline 21 \end{array}$$



SOLUCIÓN: Ahora hay 21 personas viendo el partido.

10.- En un museo había 27 guardias de seguridad. De ellos, 12 se fueron a comer. ¿Cuántos guardias hay ahora en el museo?

DATOS

27
12


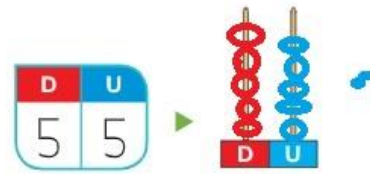
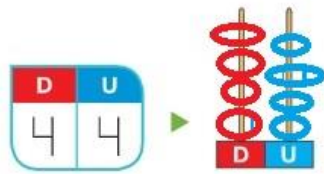
OPERACIONES

$$\begin{array}{r} 27 \\ - 12 \\ \hline 15 \end{array}$$



SOLUCIÓN: Ahora hay 15 guardias en el museo.

Dibuja y completa.



(5 decenas y 8 unidades)

$$50 + 8 = 58$$

Escribe los números que faltan en cada serie.

39 40 41

44 45 46

48 49 50

50 51 52

54 55 56

57 58 59

41 42 43 44 45

51 52 53 54 55

Escribe cómo se lee cada número.

40 ► cuarenta

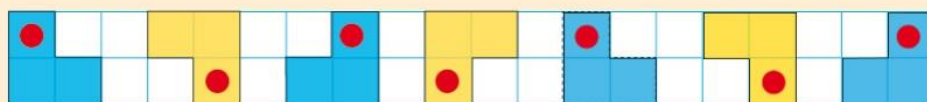
46 ► cuarenta y seis

55 ► cincuenta y cinco

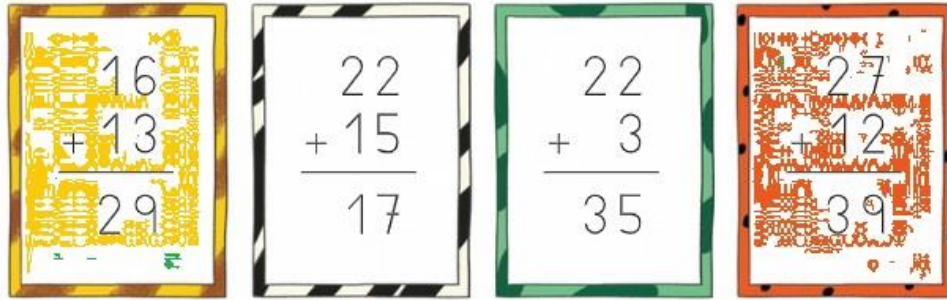
58 ► cincuenta y ocho

Completa la serie.

Serie geométrica



Repasa las sumas y colorea las operaciones bien realizadas.

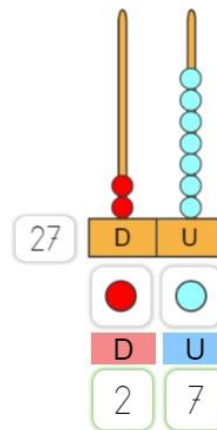
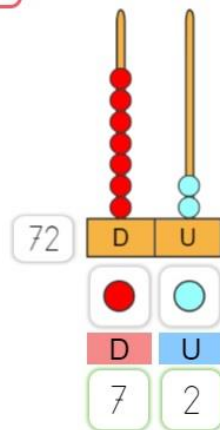
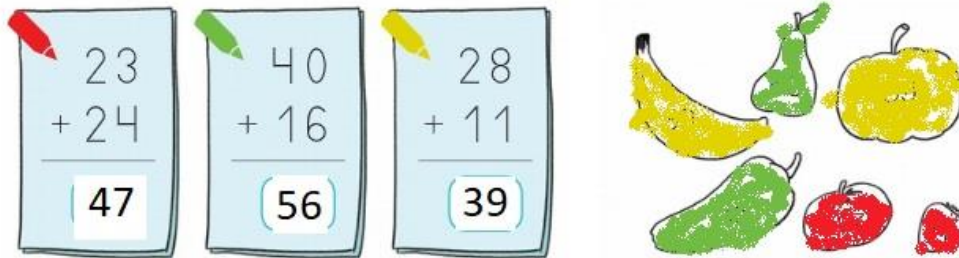


Coloca los números y calcula.

$12 + 23$	$15 + 31$	$22 + 22$	$42 + 6$
-----------	-----------	-----------	----------

$\begin{array}{r} \text{D U} \\ 12 \\ + 23 \\ \hline 35 \end{array}$	$\begin{array}{r} \text{D U} \\ 15 \\ + 31 \\ \hline 46 \end{array}$	$\begin{array}{r} \text{D U} \\ 22 \\ + 22 \\ \hline 44 \end{array}$	$\begin{array}{r} \text{D U} \\ 42 \\ + 6 \\ \hline 48 \end{array}$
--	--	--	---

Calcula y colorea los alimentos según corresponda.



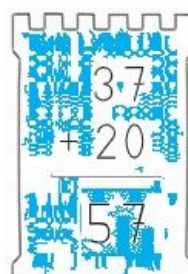
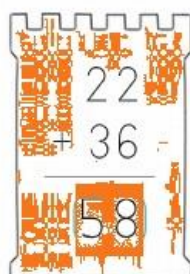
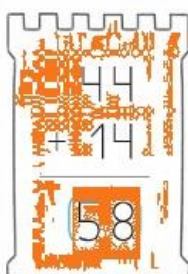
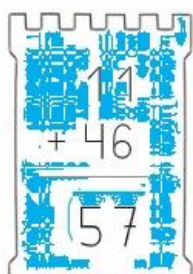
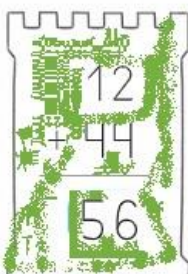
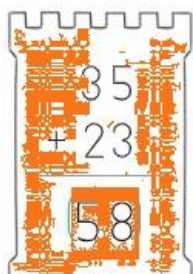


Calcula y colorea cada torre del color que corresponda.

55 ► 

56 ► 

57 ► 

58 ► 



Une los puntos.



MÚSICA

MIÉRCOLES 22 DE ABRIL DE 2020

¿Qué tipo de obra es “El carnaval de los animales”? **UNA SUITE ORQUESTAL**

¿Cuántas partes diferentes tiene? **14 PIEZAS**

¿Es una obra instrumental o es cantada? **INSTRUMENTAL**

ACTIVIDAD 1:

[Pista 5](#)

ELEFANTE

[Pista 6](#)

CANGURO

[Pista 7](#)

ACUARIO

[Pista 8](#)

BURRO

ACTIVIDAD 2:

1º CONTRABAJO Y PIANO

2º Son de la FAMILIA DE LA CUERDA, los dos están fabricados de MADERA.

3º El contrabajo es de cuerda frotada y el piano de cuerda percutida.

Otras respuestas válidas: Forma, tamaño, color, timbre (sonido que emiten), posición en la orquesta, manera de tocarla (de pie el contrabajo y sentado el piano)...

4º [VÍDEO CON LA LECTURA RÍTMICA](#)

ACTIVIDAD 3 y 4: Adecúa los movimientos del cuerpo a la velocidad de la música.

JUEVES 23 DE ABRIL DE 2020

ACTIVIDAD 1: El dibujo transmite relajación acorde con la música escuchada.

ACTIVIDAD 2:

¿Recuerdas cómo se llama al sonido que realizan los burros? **REBUZNO**

¿Y al sonido de las ovejas? **BALIDO**

¿Y al del elefante? **BARRITO**

¿y el perro, el gato, el caballo?, **LADRIDO, MAULLIDO Y RELINCHO**