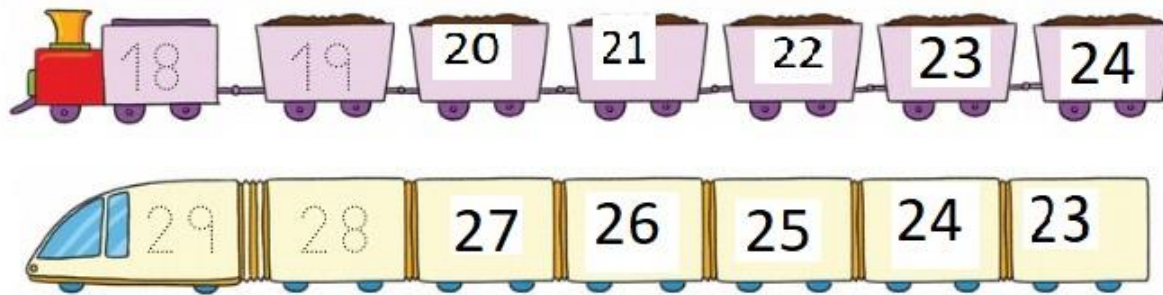
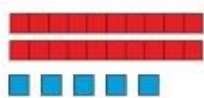


MATEMÁTICAS

3 Completa las series.

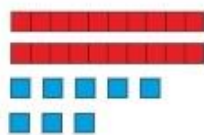


4 Cuenta y completa.



2 decenas y 4 unidades

$$20 + 4 = 24$$



2 decenas y 8 unidades

$$20 + 8 = 28$$

5 Une. Después, completa.

24	2 decenas y 7 unidades
27	2 decenas y 9 unidades
29	2 decenas y 4 unidades

D	U
2	4

D	U
2	7

D	U
2	9

Resuelve.

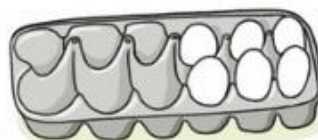
- Pablo tenía 13 llaveros. Paula le regala 6 más. ¿Cuántos llaveros tiene ahora Pablo?



$$\begin{array}{r} \text{tenía} \rightarrow 13 \\ \text{le regalan} \rightarrow + 6 \\ \hline \text{ahora tiene} \rightarrow 19 \end{array}$$

Tiene 19 llaveros.

- En una huevera caben 12 huevos. Ahora hay 6 huevos. ¿Cuántos huevos faltan para rellenar la huevera?



$$\begin{array}{r} \text{caben} \rightarrow 12 \\ \text{hay} \rightarrow - 6 \\ \hline \text{faltan} \rightarrow 6 \end{array}$$

Faltan 6 huevos.

- Antonio tiene 11 nueces. Se come 5. ¿Cuántas nueces le sobran?




$$11 - 5 = 6$$

Le sobran 6 nueces.

Utilizo las unidades de medida

10 ¿Cuánto mide cada barra? Calcúlalo con ayuda

de una regla. Como puede variar la medida, en función de si se estira más o menos la imagen, aproximaremos a la unidad más cercana. R. L.



 ► **13** centímetros  ► **11** centímetros
 ► **8** centímetros  ► **4** centímetros

11 ¿Cuántos palmos miden las barras anteriores? Utiliza tu mano para calcularlo y une. R.L.




más de un palmo

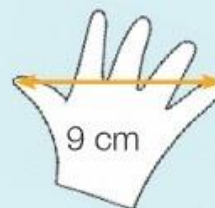


menos de un palmo



12 Si un palmo mide 9 centímetros, ¿cuántos centímetros más mide la barra roja? Calcúlalo.

 **13** - **9** = **4** centímetros



RETO

1. AL RINOCERONTE LE FALTA EL CUERNO.
2. A LA VACA LE FALTA UN CUERNO.
3. A LA GALLINA LE FALTA LA CRESTA.
4. A LA GUITARRA LE FALTAN LAS CUERDAS.
5. A LA BICI LE FALTA LA CORREA.
6. AL HELICÓPTERO LE FALTAN LA HÉLICES.

MÚSICA

MIÉRCOLES 1 DE ABRIL DE 2020

ACTIVIDAD 4:

VIDEOS PARA CORRECCIÓN:

EJERCICIO 1: <https://drive.google.com/open?id=1KlryPuuX25WDU8Pm9ggS-4Qcku6nlw-8>

1. **Cuatro por cuatro significa: “cuatro pulsos en cada compás”.**

EJERCICIO 2:

<https://drive.google.com/open?id=1KEWJDMb47gbsuXtqkiw9YI1dYmFTIW-9>

2. **Cada ejercicio tiene 4 compases. Podría tener más o menos, pero el compositor eligió 4.**

JUEVES 2 DE ABRIL DE 2020

ACTIVIDAD 1:

- ¿En qué compás está? **En dos por cuatro, que significa “dos pulsos en cada compás”.**
- ¿Cuántos compases tiene? **Tiene 8 compases.**
- ¿Qué notas aparecen diferentes? **DO MI SOL LA**
- ¿Qué figuras rítmicas aparecen? Negra, dos corcheas y silencio de negra

ACTIVIDAD 2: VIDEO PARA CORREGIR LA LECTURA RÍTMICA.

<https://drive.google.com/open?id=1KAf9k3-dxnWE2FEsCNKwTauHSYUbiwVa>

ACTIVIDAD 5: VIDEO PARA CORREGIR LA LECTURA CON LETRA

<https://drive.google.com/open?id=1K7znZDoCM8vSN7Jn5fkURs9OrlSL2Ggm>
